

5ºANO FICHA ENRIQUECIMENTO – A UNIDADE- 1

1. A Andreia contou **4 triângulos** na figura A.

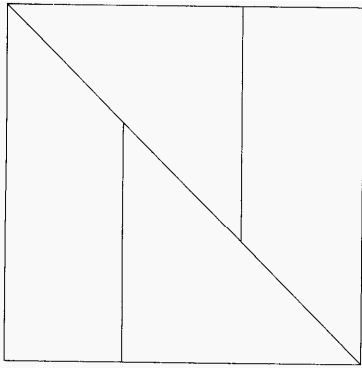


Figura A

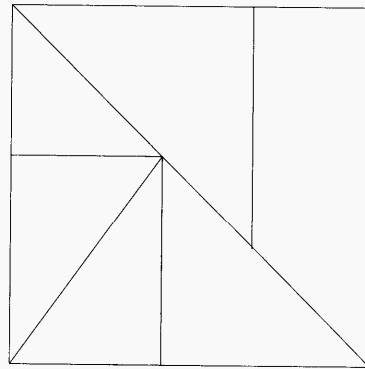
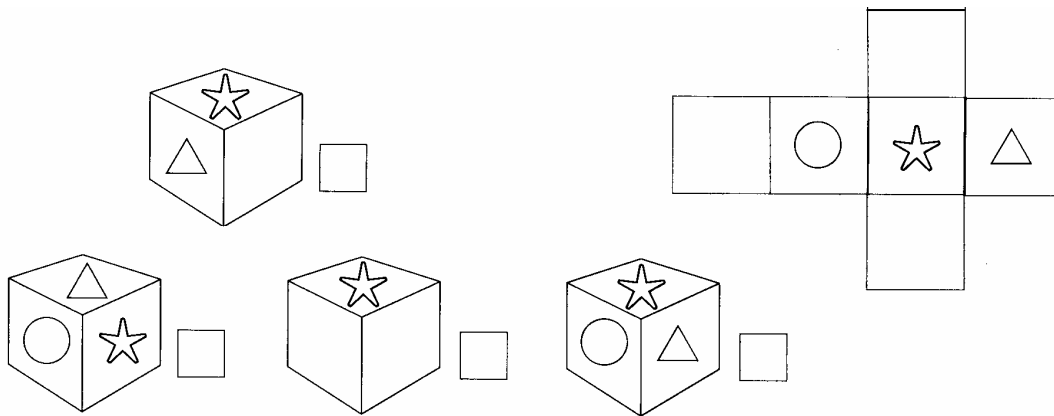


Figura B

Quantos triângulos consegues contar na figura B?

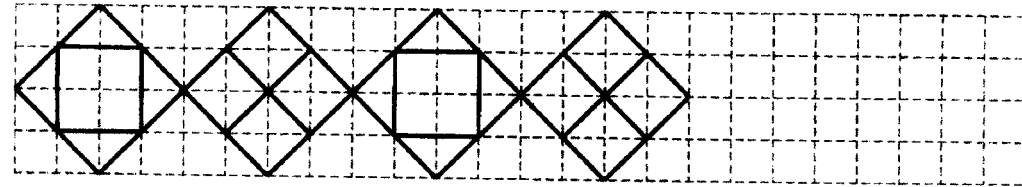
2. Assinala com um **X**, o cubo que pode ser construído a partir da planificação dada a seguir.



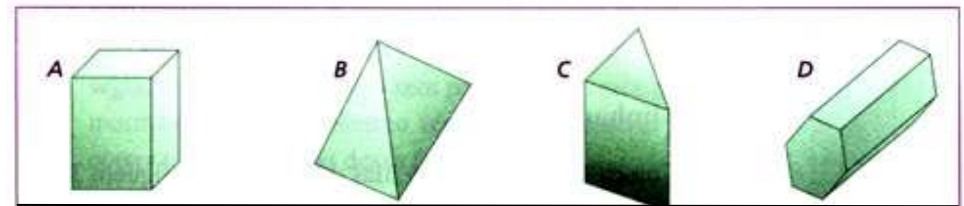
3. Se estivesse a jogar ao jogo “Acerta na figura geométrica” e quisesse que o teu parceiro adivinhasse que se tratava de um rectângulo, o que lhe dirias?

Lembra-te que não podes usar a palavra **rectângulo**.

4. Completa o friso.



5. Identifica o intruso em cada grupo de sólidos.



6. Coloca 12 moedas em 6 filas de modo a que fiquem 3 moedas em cada uma.