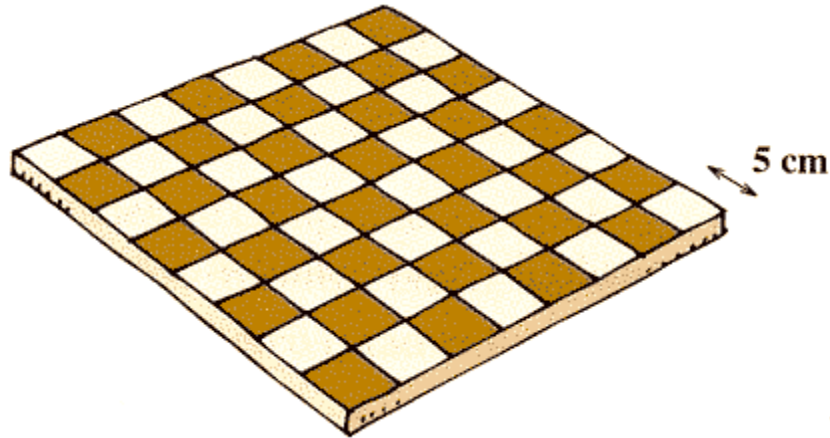


5ºANO FICHA ENRIQUECIMENTO – A UNIDADE- 4

1. Calcula a área do tabuleiro de xadrez.



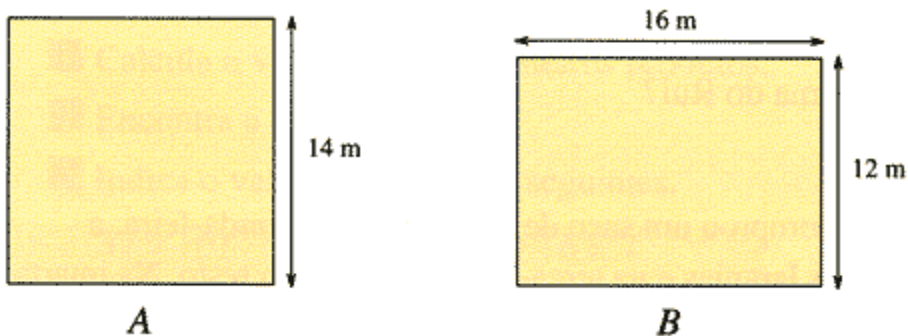
2. Um jardim quadrado tem 24m de perímetro. Calcula a sua área.

3. Um lenço rectangular tem 32cm de comprimento e 128 cm de perímetro.

Calcula:

- a) a largura do lenço;
b) a sua área em dm^2 .

4. Na escola há dois pátios, um de forma quadrada e outro de forma rectangular.



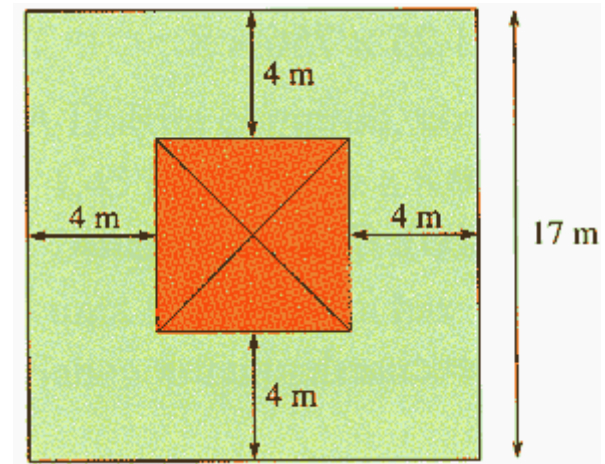
- a) Qual dos dois tem maior área?
b) Qual dos dois tem maior perímetro?

5. Observa a planta, casa e terreno, do Luís.

- a) Quanto mede cada lado da casa?

- b) Calcula:

- A área do terreno ocupado pela casa;
- A área da parte ajardinada.



6. A camioneta de carga da figura pesa, vazia, 3,25 toneladas. Vai carregada com 152 caixas, pesando cada uma 7,1kg.



Será que pode passar na ponte?