

**5ºANO FICHA ENRIQUECIMENTO – E UNIDADE- 4**

1. Desenha a figura seguinte desta sequência:

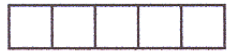


Figura 1

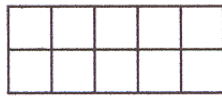


Figura 2




Figura 3

2. Adivinha!

- |  |  |
|--|--|
| a) Sou o maior número,<br>de três algarismos,<br>múltiplo de 5.<br>Quem sou? | b) Sou múltiplo de 9.<br>Estou entre 80 e 100.<br>Sou múltiplo de 11.<br>Quem sou? |
|--|--|

3. O André tem no bolso 4 moedas. A sua pequena fortuna é de € 5.  
Que moedas tem o André?

Apresenta pelo menos duas hipóteses.

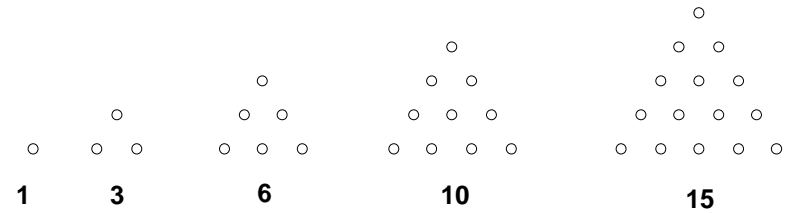
4. Dos números seguintes, escolhe três:

**3    12    24    36    48**

Escreve-os no rectângulo de modo que o produto fique certo.

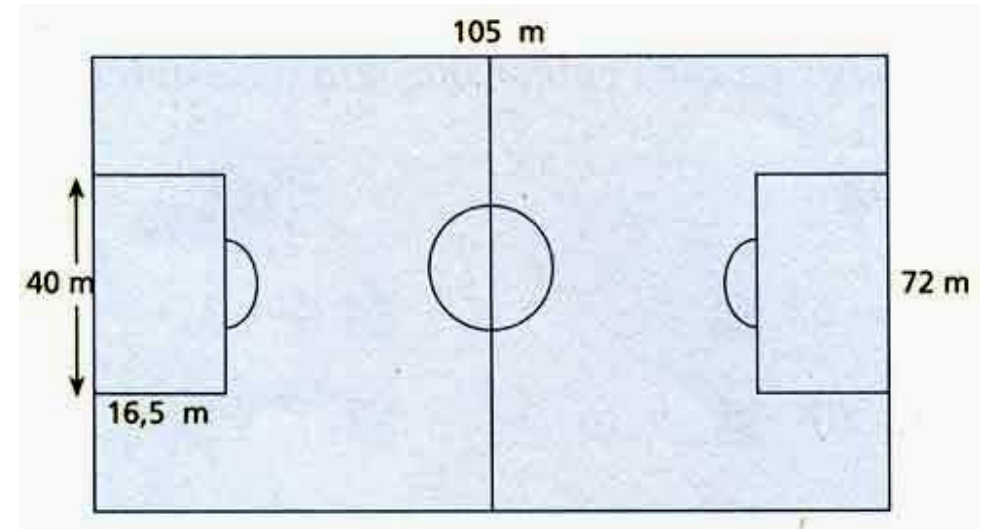
	<b>X</b>		<b>=</b>	
--	----------	--	----------	--

5. Continua a sequência.



6. O pai da Ana tem mais de 40 anos mas menos de 50. No ano passado a sua idade era um múltiplo de 4; este ano é um múltiplo de 5. Quantos anos tem?

7. A figura representa um campo de futebol.



- Calcula a área da superfície correspondente à “grande área”.
- Calcula a área da parte restante do campo.