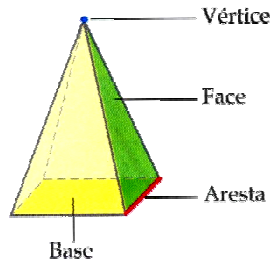
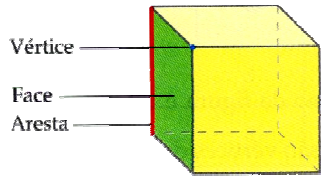


RECORDA



EXERCÍCIOS

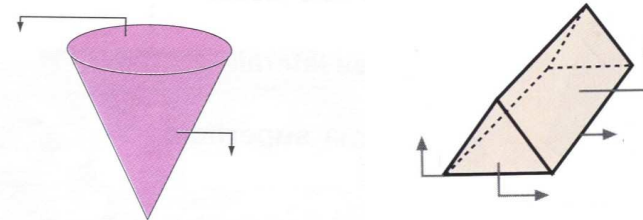
1. Completa os quadros

A			
Prismas			
Nº de arestas da base			
Nº de faces			
Nº de arestas			
Nº de vértices			

B			
Pirâmides			
Nº de arestas da base			
Nº de faces			
Nº de arestas			
Nº de vértices			

C			
Sólidos			
Nome			
Nº de faces			
Nº de arestas			
Nº de bases			
Nº de vértices			

2- Completa as legendas



3- Completa as frases

- a) As \_\_\_\_\_ têm só uma base
- b) As faces laterais de um prisma são \_\_\_\_\_
- c) As \_\_\_\_\_ das pirâmides são triangulares
- d) As faces de um cubo são \_\_\_\_\_
- e) Os \_\_\_\_\_ têm duas \_\_\_\_\_