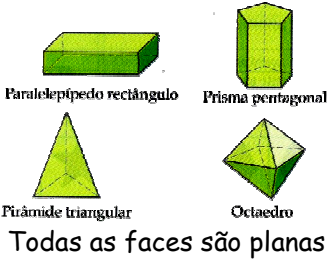


RECORDA

POLIEDROS

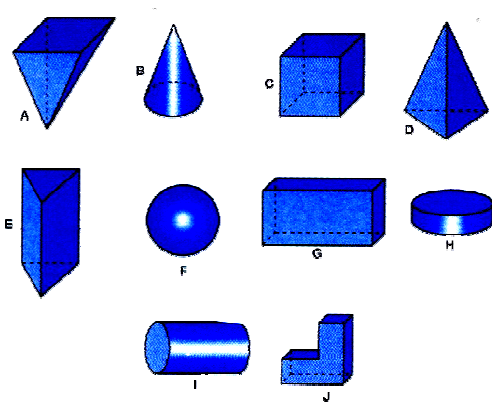


NÃO POLIEDROS



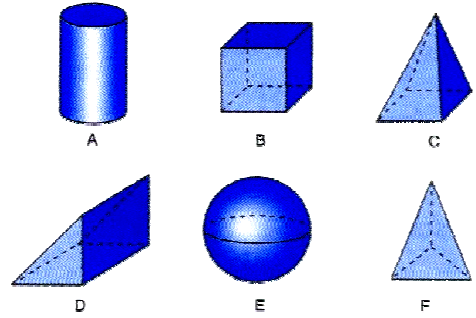
EXERCÍCIOS

1- Considera os sólidos. Indica :



- a) Os poliedros
- b) Os não poliedros

2- Observa os sólidos. Coloca estes sólidos em cada um dos grupos seguintes



- a) Os que não têm vértice
- b) Os que não têm superfícies curvas
- c) os que só têm superfícies curvas
- d) os que têm faces
- e) os que não têm faces
- f) os que têm base