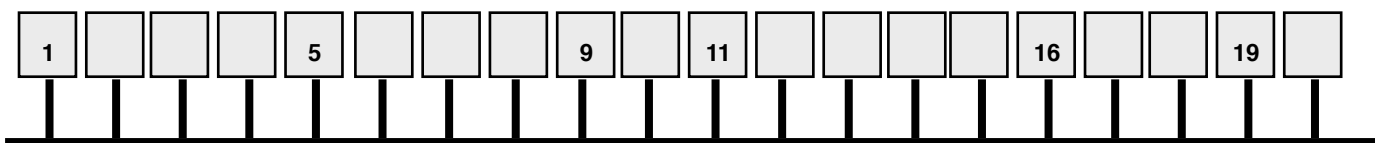
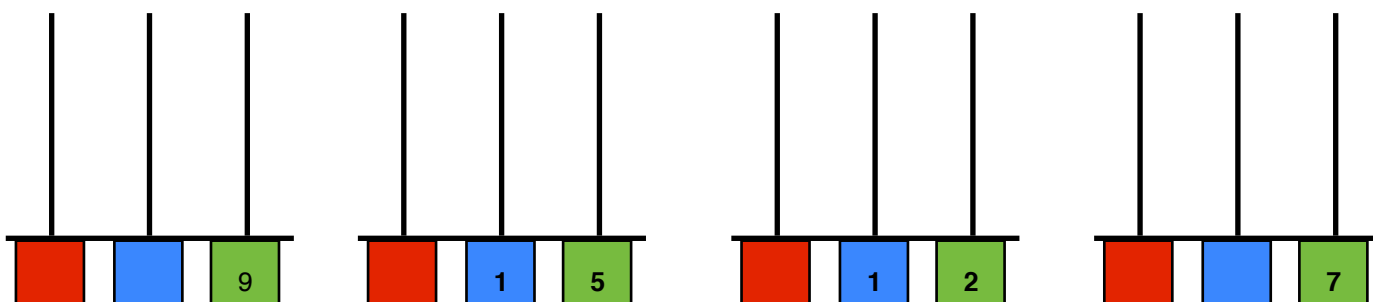


NOME: _____ DATA: ____ / ____ / ____

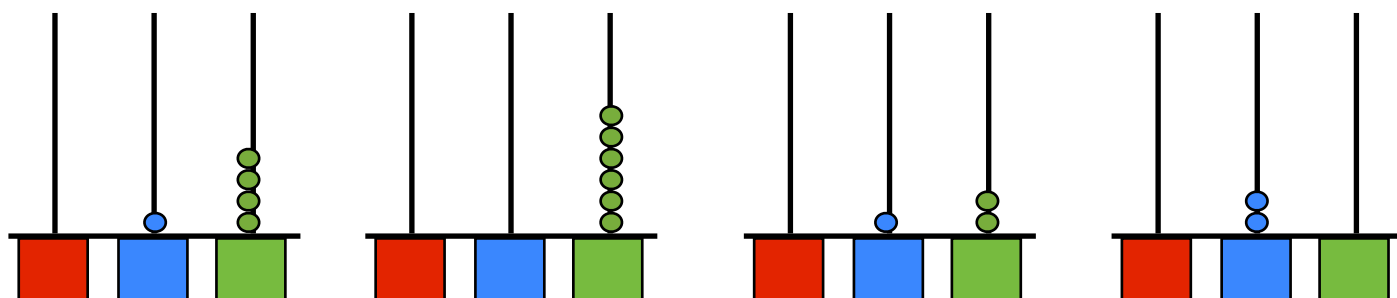
● **Completa a reta numérica.**



● **Representa os números indicados nos ábacos.**



● **Escreve os números representados nos ábacos.**



● **Preenche com os números anteriores e seguintes.**

Antes		Depois
	8	
5		
	4	
1		

Antes		Depois
12		
	10	
	15	
18		

● **Conta de 5 em 5. Pinta os círculos e escreve os números que contaste nos locais corretos.**

